

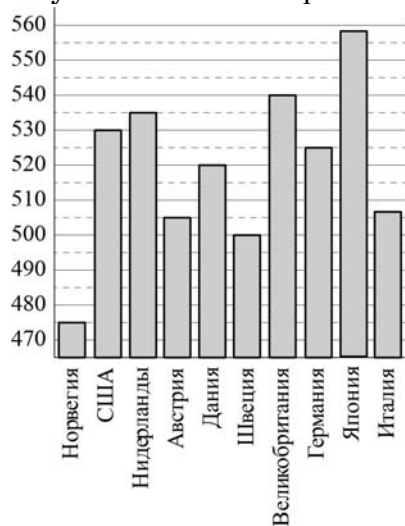
Часть 1

В1 На автозаправке клиент отдал кассиру 1000 рублей и залил в бак 35 литров бензина по цене 25 руб. 50 коп. за литр. Какую сдачу клиент должен получить у кассира? Ответ выразите в рублях.

Ответ:

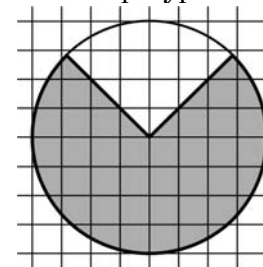
В2 На диаграмме показан средний балл участников 10 стран в тестировании учащихся 4-го класса по математике в 2007 году (по 1000-балльной шкале).

Найдите средний балл участников из Австрии.



Ответ:

В3 На клетчатой бумаге нарисован круг, площадь которого равна 16. Найдите площадь закрашенной фигуры.



Ответ:

В4 Для транспортировки 3 тонн груза на 350 км можно воспользоваться услугами одной из трех фирм-перевозчиков. Стоимость перевозки и грузоподъемность автомобилей для каждого перевозчика указана в таблице. Сколько рублей придется заплатить за самую дешевую перевозку?

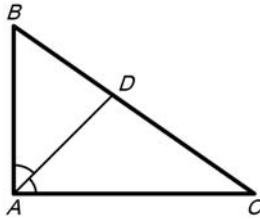
Перевозчик	Стоимость перевозки одним автомобилем (руб. на 10 км)	Грузоподъемность автомобилей (тонн)
А	90	1,8
Б	120	2,4
В	170	3,4

Ответ:

В5 Найдите корень уравнения: $\sqrt{10-x} = 3$.

Ответ:

- В6** В треугольнике ABC AD — биссектриса, угол C равен 35° , угол CAD равен 45° . Найдите угол B . Ответ дайте в градусах.

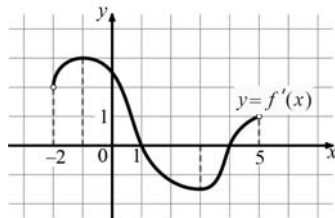


Ответ:

- В7** Найдите $\cos \alpha$, если $\sin \alpha = \frac{7}{25}$ и $\alpha \in \left(0; \frac{\pi}{2}\right)$.

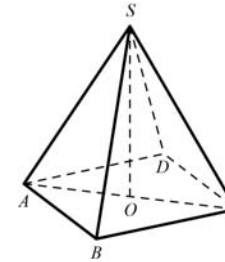
Ответ:

- В8** На рисунке изображен график производной функции $y=f(x)$, определенной на интервале $(-2;5)$. По рисунку найдите точку максимума функции $y=f(x)$.



Ответ:

- В9** В правильной четырехугольной пирамиде $SABCD$ точка O — центр основания, $SD=26$, $AC=20$. Найдите длину отрезка SO .



Ответ:

- В10** В кармане у Пети было 4 монеты по рублю и 2 монеты по 2 рубля. Петя, не глядя, переложил какие-то три монеты в другой карман. Найдите вероятность того, что обе двухрублевые монеты лежат в одном кармане.

Ответ:

- В11** Во сколько раз увеличится площадь поверхности пирамиды, если все ее ребра увеличить в 7 раз?

Ответ:

- В12** В ходе распада радиоактивного изотопа его масса уменьшается по закону $m(t) = m_0 \cdot 2^{-\frac{t}{T}}$, где m_0 (мг) — начальная масса изотопа, t (мин) — время, прошедшее от начального момента, T (мин) — период полураспада. В начальный момент времени масса изотопа $m_0 = 24$ мг. Период его полураспада $T = 2$ мин. Через сколько минут масса изотопа будет равна 3 мг?

Ответ:

- В13** Из пункта А в пункт В, расстояние между которыми 50 км, одновременно выехали автомобилист и велосипедист. Известно, что в час автомобилист проезжает на 30 км больше, чем велосипедист. Определите скорость велосипедиста, если известно, что он прибыл в пункт В на 3 часа 45 минут позже автомобилиста. Ответ дайте в км/ч.

Ответ:

В14 | Найдите наименьшее значение функции $y = x^3 + 6x^2 + 9x + 8$ на отрезке $[-2; 0]$.

Ответ:

Часть 2

Для записи решений и ответов на задания С1–С6 используйте бланк ответов №2. Запишите сначала номер выполняемого задания, а затем полное обоснованное решение и ответ.

С1 | Дано уравнение $\cos\left(\frac{3\pi}{2} + 2x\right) = \cos x$.

а) Решите уравнение;

б) Укажите корни уравнения, принадлежащие отрезку $\left[\frac{5\pi}{2}; 4\pi\right]$.

С2 | Основанием прямой призмы $ABC A_1 B_1 C_1$ является равнобедренный треугольник ABC , $AB = AC = 5$, $BC = 8$. Высота призмы равна 3. Найдите угол между прямой $A_1 B$ и плоскостью BCC_1 .

С3 | Решите систему неравенств

$$\begin{cases} \frac{2x^2 - 2x + 1}{2x - 1} \leq 1, \\ 25x^2 - 3|3 - 5x| < 30x - 9. \end{cases}$$

С4 | Точка M лежит на отрезке AB . На окружности с диаметром AB взята точка C , удаленная от точек A , M и B на расстояния 20, 14 и 15 соответственно. Найдите площадь треугольника BMC .

С5 | Найдите все значения a , при каждом из которых наименьшее значение функции $f(x) = 4ax + |x^2 - 6x + 5|$ больше, чем -24 .

С6 | Все члены геометрической прогрессии – различные натуральные числа, заключенные между числами 210 и 350.

а) может ли такая прогрессия состоять из четырех членов?

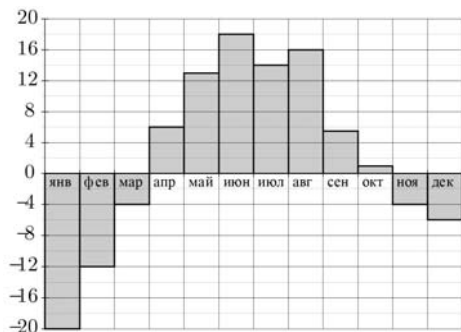
б) может ли такая прогрессия состоять из пяти членов?

Часть 1

В1 На автозаправке клиент отдал кассиру 1000 рублей и залил в бак 29 литров бензина по цене 31 руб. 70 коп. за литр. Какую сдачу клиент должен получить у кассира? Ответ выразите в рублях.

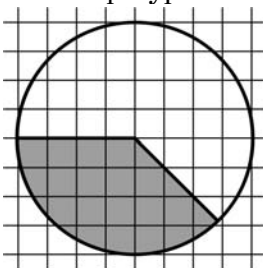
Ответ:

В2 На диаграмме показана среднемесячная температура воздуха в Свердловске (ныне – Екатеринбург) за каждый месяц 1973 года. По горизонтали указываются месяцы, по вертикали – температура в градусах Цельсия. Определите число месяцев в первом полугодии 1973 года, когда среднемесячная температура в Свердловске была ниже 7°C.



Ответ:

В3 На клетчатой бумаге нарисован круг, площадь которого равна 28. Найдите площадь закрашенной фигуры.



Ответ:

В4 Для транспортировки 3 тонн груза на 250 км можно воспользоваться услугами одной из трех фирм-перевозчиков. Стоимость перевозки и грузоподъемность автомобилей для каждого перевозчика указана в таблице. Сколько рублей придется заплатить за самую дешевую перевозку?

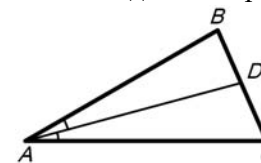
Перевозчик	Стоимость перевозки одним автомобилем (руб. на 10 км)	Грузоподъемность автомобилей (тонн)
А	110	2,2
Б	130	2,6
В	170	3,4

Ответ:

В5 Найдите корень уравнения: $\sqrt{50 - 2x} = 8$.

Ответ:

В6 В треугольнике ABC AD — биссектриса, угол C равен 66° , угол CAD равен 15° . Найдите угол B . Ответ дайте в градусах.

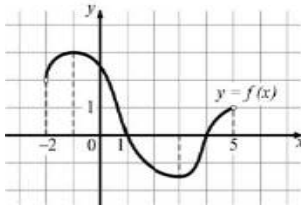


Ответ:

В7 Найдите $\cos \alpha$, если $\sin \alpha = -\frac{7}{25}$ и $\alpha \in \left(\frac{3\pi}{2}; 2\pi\right)$.

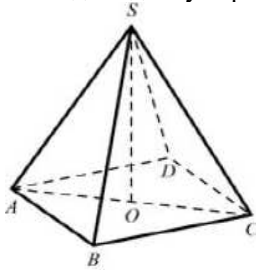
Ответ:

B8. На рисунке изображен график функции $y = f(x)$, определенной на интервале $(-2;5)$. По рисунку найдите корень уравнения $f'(x) = 0$, принадлежащий интервалу $(0;5)$.



Ответ:

B9 В правильной четырехугольной пирамиде $SABCD$ точка O – центр основания, $SB=15$, $AC=18$. Найдите длину отрезка SO .



Ответ:

B10 В случайном эксперименте бросают две игральные кости. Найдите вероятность того, что в сумме выпадет 3 очка. Результат округлите до сотых.

Ответ:

B11. Во сколько раз увеличится площадь поверхности пирамиды, если все ее ребра увеличить в 6 раз?

Ответ:

B12. В ходе распада радиоактивного изотопа его масса уменьшается по закону $m(t) = m_0 \cdot 2^{-\frac{t}{T}}$ где m_0 (мг) — начальная масса изотопа, t (мин) — время, прошедшее от начального момента, T (мин) — период полураспада. В начальный момент времени масса изотопа $m_0 = 88$ мг. Период его полураспада $T = 6$ мин. Через сколько минут масса изотопа будет равна 11 мг?

Ответ:

B13 Из пункта А в пункт В, расстояние между которыми 50 км, одновременно выехали автомобилист и велосипедист. Известно, что в час автомобилист проезжает на 45 км больше, чем велосипедист. Определите скорость велосипедиста, если известно, что он прибыл в пункт В на 2 часа 30 минут позже автомобилиста. Ответ дайте в км/ч.

Ответ:

B14. Найдите наименьшее значение функции $y = x^3 - 18x^2 + 81x + 23$ на отрезке $[8; 13]$

Ответ:

Часть 2

Для записи решений и ответов на задания C1–C6 используйте бланк ответов №2. Запишите сначала номер выполняемого задания, а затем полное обоснованное решение и ответ.

C1 Дано уравнение $\sin\left(\frac{3\pi}{2} - 2x\right) = \sin x$

а) Решите уравнение;

б) Укажите корни уравнения, принадлежащие отрезку $\left[\frac{3\pi}{2}; \frac{5\pi}{2}\right]$.

C2 Основанием прямой призмы $ABC A_1B_1C_1$ является прямоугольный треугольник ABC , $\angle C = 90^\circ$, $AB=5$, $BC = \sqrt{5}$. Высота призмы равна $\sqrt{3}$. Найдите угол между прямой C_1B и плоскостью ABB_1 .

С3 | Решите систему неравенств

$$\begin{cases} \frac{2x^2 - 6x + 5}{2x - 3} \leq 1, \\ 25x^2 - 4|8 - 5x| < 80x - 64. \end{cases}$$

С4 | Точка M лежит на отрезке AB . На окружности с диаметром AB взята точка C , удаленная от точек A, M и B на расстояния 40, 29 и 30 соответственно. Найдите площадь треугольника BMC .

С5 | Найдите все значения a , при каждом из которых наименьшее значение функции $f(x) = 4ax + |x^2 - 10x + 21|$ больше, чем -42 .

С6 | Все члены геометрической прогрессии – различные натуральные числа, заключенные между числами 510 и 740.

а) может ли такая прогрессия состоять из четырех членов?

б) может ли такая прогрессия состоять из пяти членов?

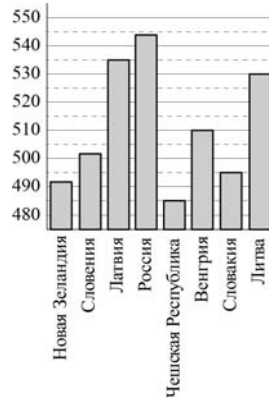
Часть 1

B1 На автозаправке клиент отдал кассиру 1000 рублей и залил в бак 22 литра бензина по цене 28 руб. 60 коп. за литр. Какую сдачу клиент должен получить у кассира? Ответ выразите в рублях.

Ответ:

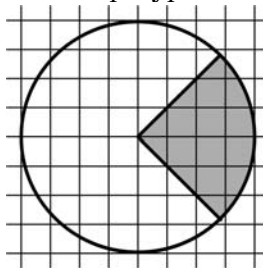
B2 На диаграмме показан средний балл участников 8 стран в тестировании учащихся 4-го класса по математике в 2007 году (по 1000-балльной шкале).

Найдите число стран, в которых средний балл не меньше, чем 500.



Ответ:

B3 На клетчатой бумаге нарисован круг, площадь которого равна 6. Найдите площадь закрашенной фигуры.



Ответ:

B4 Для транспортировки 3 тонн груза на 350 км можно воспользоваться услугами одной из трех фирм-перевозчиков. Стоимость перевозки и грузоподъемность автомобилей для каждого перевозчика указана в таблице. Сколько рублей придется заплатить за самую дешевую перевозку?

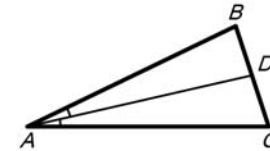
Перевозчик	Стоимость перевозки одним автомобилем (руб. на 10 км)	Грузоподъемность автомобилей (тонн)
А	100	2
Б	120	2,4
В	170	3,4

Ответ:

B5 Найдите корень уравнения: $\sqrt{63 - 6x} = 3$.

Ответ:

B6 В треугольнике ABC AD — биссектриса, угол C равен 72° , угол CAD равен 13° . Найдите угол B . Ответ дайте в градусах.

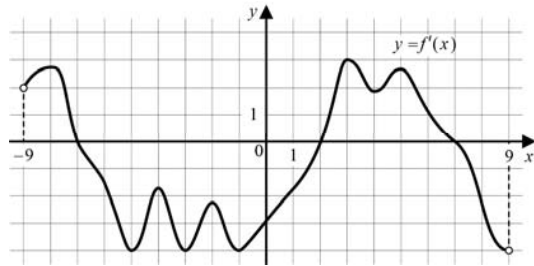


Ответ:

B7 Найдите $\cos \alpha$, если $\sin \alpha = \frac{24}{25}$ и $\alpha \in \left(\frac{\pi}{2}; \pi\right)$.

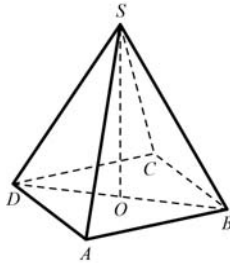
Ответ:

B8 На рисунке изображен график $y = f'(x)$ – производной функции $f(x)$, определенной на интервале $(-9;9)$. Найдите количество точек минимума функции $f(x)$, принадлежащих отрезку $[-6;8]$.



Ответ:

B9 В правильной четырехугольной пирамиде $SABCD$ точка O – центр основания, $SA=13$, $BD=10$. Найдите длину отрезка SO .



Ответ:

B10 В случайном эксперименте бросают две игральные кости. Найдите вероятность того, что в сумме выпадет 7 очков. Результат округлите до сотых.

Ответ:

B11 Во сколько раз увеличится площадь поверхности пирамиды, если все ее ребра увеличить в 12 раз?

Ответ:

B12 В ходе распада радиоактивного изотопа его масса уменьшается по закону $m(t) = m_0 \cdot 2^{-\frac{t}{T}}$, где m_0 (мг) — начальная масса изотопа, t (мин) — время, прошедшее от начального момента, T (мин) — период полураспада. В начальный момент времени масса изотопа $m_0 = 36$ мг. Период его полураспада $T = 10$ мин. Через сколько минут масса изотопа будет равна 9 мг?

Ответ:

B13 Из пункта А в пункт В, расстояние между которыми 60 км, одновременно выехали автомобилист и велосипедист. Известно, что в час автомобилист проезжает на 40 км больше, чем велосипедист. Определите скорость велосипедиста, если известно, что он прибыл в пункт В на 2 часа позже автомобилиста. Ответ дайте в км/ч.

Ответ:

B14 Найдите наименьшее значение функции $y = x^3 - 20x^2 + 100x + 7$ на отрезке $[9, 5; 13]$.

Ответ:

Часть 2

Для записи решений и ответов на задания C1–C6 используйте бланк ответов №2. Запишите сначала номер выполняемого задания, а затем полное обоснованное решение и ответ.

C1 Дано уравнение $\cos\left(\frac{3\pi}{2} + 2x\right) = \cos x$.

а) Решите уравнение;

б) Укажите корни уравнения, принадлежащие отрезку $\left[\frac{5\pi}{2}; 4\pi\right]$.

C2 Основанием прямой призмы $ABC A_1 B_1 C_1$ является равнобедренный треугольник ABC , $AB = AC = 5$, $BC = 8$. Высота призмы равна 3. Найдите угол между прямой $A_1 B$ и плоскостью BCC_1 .

С3 | Решите систему неравенств

$$\begin{cases} \frac{2x^2 - 2x + 1}{2x - 1} \leq 1, \\ 25x^2 - 3|3 - 5x| < 30x - 9. \end{cases}$$

С4 | Точка M лежит на отрезке AB . На окружности с диаметром AB взята точка C , удаленная от точек A , M и B на расстояния 20, 14 и 15 соответственно. Найдите площадь треугольника BMC .

С5 | Найдите все значения a , при каждом из которых наименьшее значение функции $f(x) = 4ax + |x^2 - 6x + 5|$ больше, чем -24 .

С6 | Все члены геометрической прогрессии – различные натуральные числа, заключенные между числами 210 и 350.

а) может ли такая прогрессия состоять из четырех членов?

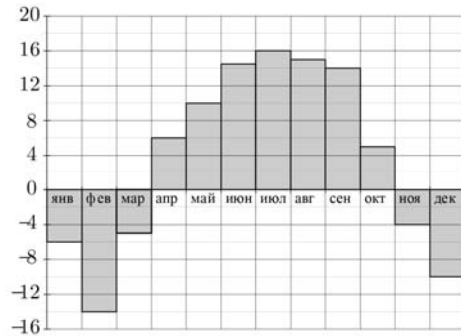
б) может ли такая прогрессия состоять из пяти членов?

Часть 1

В1 На автозаправке клиент отдал кассиру 1000 рублей и залил в бак 22 литра бензина по цене 31 руб. 80 коп. за литр. Какую сдачу клиент должен получить у кассира? Ответ выразите в рублях.

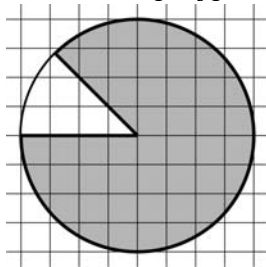
Ответ:

В2 На диаграмме показана среднемесячная температура воздуха в Нижнем Новгороде за каждый месяц 1994 года. По горизонтали указываются месяцы, по вертикали — температура в градусах Цельсия. Определите число месяцев во втором полугодии 1994 года, когда среднемесячная температура в Нижнем Новгороде находилась в интервале от -6°C до 6°C .



Ответ:

В3 На клетчатой бумаге нарисован круг, площадь которого равна 12. Найдите площадь заштрихованной фигуры.



Ответ:

В4 Для транспортировки 3 тонн груза на 350 км можно воспользоваться услугами одной из трех фирм-перевозчиков. Стоимость перевозки и грузоподъемность автомобилей для каждого перевозчика указана в таблице. Сколько рублей придется заплатить за самую дешевую перевозку?

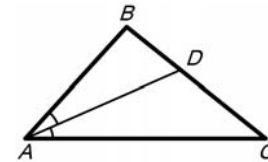
Перевозчик	Стоимость перевозки одним автомобилем (руб. на 10 км)	Грузоподъемность автомобилей (тонн)
А	90	1,8
Б	140	2,8
В	160	3,2

Ответ:

В5 Найдите корень уравнения: $\sqrt{-16 - 8x} = 4$.

Ответ:

В6 В треугольнике ABC AD — биссектриса, угол C равен 39° , угол CAD равен 24° . Найдите угол B . Ответ дайте в градусах.

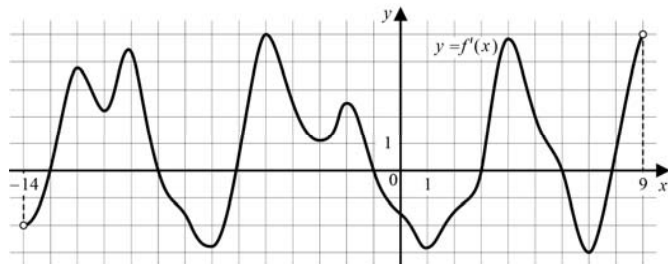


Ответ:

В7 Найдите $\cos \alpha$, если $\sin \alpha = -\frac{24}{25}$ и $\alpha \in \left(\pi; \frac{3\pi}{2}\right)$.

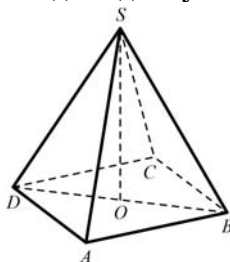
Ответ:

- В8** На рисунке изображен график $y = f'(x)$ – производной функции $f(x)$, определенной на интервале $(-14;9)$. Найдите количество точек максимума функции $f(x)$, принадлежащих отрезку $[-12;7]$.



Ответ:

- В9** В правильной четырехугольной пирамиде $SABCD$ точка O — центр основания, $SD=5$, $BD=6$. Найдите длину отрезка SO .



Ответ:

- В10** В кармане у Пети было 2 монеты по 5 рублей и 4 монеты по 10 рублей. Петя, не глядя, переложил какие-то 3 монеты в другой карман. Найдите вероятность того, что пятирублевые монеты лежат теперь в разных карманах.

Ответ:

- В11** Во сколько раз увеличится площадь поверхности пирамиды, если все ее ребра увеличить в 4 раза?

Ответ:

- В12** В ходе распада радиоактивного изотопа его масса уменьшается по закону $m(t) = m_0 \cdot 2^{-\frac{t}{T}}$, где m_0 (мг) — начальная масса изотопа, t (мин) — время, прошедшее от начального момента, T (мин) — период полураспада. В начальный момент времени масса изотопа $m_0 = 16$ мг. Период его полураспада $T = 7$ мин. Через сколько минут масса изотопа будет равна 1 мг?

Ответ:

- В13** Из пункта А в пункт В, расстояние между которыми 60 км, одновременно выехали автомобилист и велосипедист. Известно, что в час автомобилист проезжает на 45 км больше, чем велосипедист. Определите скорость велосипедиста, если известно, что он прибыл в пункт В на 3 часа позже автомобилиста. Ответ дайте в км/ч.

Ответ:

- В14** Найдите наименьшее значение функции $y = x^3 + 18x^2 + 81x + 3$ на отрезке $[-7; -0,5]$.

Ответ:

Часть 2

Для записи решений и ответов на задания С1–С6 используйте бланк ответов №2. Запишите сначала номер выполняемого задания, а затем полное обоснованное решение и ответ.

- С1** Дано уравнение $\sin\left(\frac{3\pi}{2} - 2x\right) = \sin x$.

а) Решите уравнение;

б) Укажите корни уравнения, принадлежащие отрезку $\left[\frac{3\pi}{2}; \frac{5\pi}{2}\right]$.

- С2** Основанием прямой призмы $ABC A_1 B_1 C_1$ является прямоугольный треугольник ABC , $\angle C = 90^\circ$, $AB = 5$, $BC = \sqrt{5}$. Высота призмы равна $\sqrt{3}$. Найдите угол между прямой $C_1 B$ и плоскостью ABB_1 .

С3 | Решите систему неравенств

$$\begin{cases} \frac{2x^2 - 6x + 5}{2x - 3} \leq 1, \\ 25x^2 - 4|8 - 5x| < 80x - 64. \end{cases}$$

С4 | Точка M лежит на отрезке AB . На окружности с диаметром AB взята точка C , удаленная от точек A, M и B на расстояния 40, 29 и 30 соответственно. Найдите площадь треугольника BMC .

С5 | Найдите все значения a , при каждом из которых наименьшее значение функции $f(x) = 4ax + |x^2 - 10x + 21|$ больше, чем -42 .

С6 | Все члены геометрической прогрессии – различные натуральные числа, заключенные между числами 510 и 740.

а) может ли такая прогрессия состоять из четырех членов?

б) может ли такая прогрессия состоять из пяти членов?